

# PACK de 48 tarjetas de RESOLUCIÓN DE PROBLEMAS para 1º de Primaria

En un bote hay 28 galletas. Isabel se ha comido 13 galletas. ¿Cuántas galletas quedan en el bote?



www.deseducando.com



na puesto  
5 huevos  
nto y han  
ollitos.  
huevos  
abrirse?



www.deseducando.com



emáforo  
arados 3  
motos y 1  
¿cuántos  
los hay  
en total?



www.deseducando.com



En letra escolar  
y  
En letra imprenta

No olvides que en nuestra web también tienes las tarjetas para resolución de problemas de 2º de primaria

En un partido de baloncesto el equipo azul ha conseguido 85 puntos y el equipo amarillo 67. ¿Cuántos puntos de diferencia hay entre un equipo y otro?

**CÁLCULO**

www.deseducando.com

Carla ha comprado 270 piedras de decoración para su acuario. ¿Puedes expresar esa cantidad en centenas y decenas?

**NUMERACIÓN**

www.deseducando.com

¿Hay en el abecedario en mayúsculas letras simétricas? En el caso de que sea afirmativo, di al menos 5 letras mayúsculas que sean simétricas.

**GEOMETRÍA**

www.deseducando.com

Compré un billete de tren para viajar a las 10:45. He llegado a la estación a las 11:10. ¿He llegado pronto o tarde? ¿Por cuantos minutos de diferencia?

**MEDIDA**

www.deseducando.com

Todas las columnas deben sumar 13 y, para ello, deberás tachar el número diferente en cada una.

|   |   |   |   |
|---|---|---|---|
| 1 | 4 | 5 | 8 |
| 2 | 7 | 3 | 4 |
| 3 | 2 | 4 | 6 |
| 9 | 1 | 6 | 1 |

**RETOS**

www.deseducando.com

Letra escolar

Marina tenía 17 vacas en el prado. Ayer vendió 5. ¿Cuántas vacas le quedan aún por el prado?



www.deseducando.com



Jesús tiene 8 años y Tomás tiene 9 años. ¿Cuántos años tienen entre los dos?



www.deseducando.com



Rocío tiene una cesta con 11 manzanas y otra cesta con 8 naranjas. ¿Cuántas frutas tiene en total?



www.deseducando.com



Jesús tiene 34 cartas y Gloria tiene 25. ¿Cuántas cartas tienen entre los dos?



www.deseducando.com



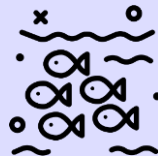
Lucas tenía 83 caramelos en un bote. Ayer por la tarde repartió 41. entre sus amigos. ¿Cuántos caramelos le quedan en el bote?



www.deseducando.com



Carla pescó el sábado 24 peces. El domingo pescó 45. ¿Cuántos peces pescó en total los dos días?



www.deseducando.com



Rocío tiene una cesta con 63 peras y manzanas. Si de las 63 piezas de fruta, 24 son manzanas. ¿Cuántas son peras?



www.deseducando.com



En el cumpleaños de María había 26 globos. Si se explotaron 21, ¿Cuántos globos quedaron sin explotar?



www.deseducando.com



Mario tiene 11 lápices en el estuche. Si mete 7 lápices más dentro. ¿Cuántos lápices hay en el estuche?



www.deseducando.com 

Laura ha marcado 12 goles y Gloria ha marcado 7 goles. ¿Cuántos goles han marcado entre las dos?



www.deseducando.com 

En una floristería había 38 flores. Si se venden 25, ¿Cuántas flores quedan sin vender?



www.deseducando.com 


En un cumpleaños hay 17 sillas para los invitados. Si hay 5 sillas libres, ¿cuántos niños hay en la fiesta?



www.deseducando.com 

En un equipo de ping-pong tienen 24 pelotas para entrenar. Si 14 son blancas, ¿cuántas pelotas hay de color naranja?



www.deseducando.com 

Cristina colecciona cómics. En su estantería tenía 24. Sus padres le han comprado 16 cómics nuevos. ¿Cuántos cómics tiene ahora Cristina?



www.deseducando.com 

Jaime fue a comprar dos barras de pan con los 5€ que le dio su madre. Si ha vuelto con 3€, ¿cuánto le han costado las barras de pan?



www.deseducando.com 

Pablo ha ido a hacer la compra, y se ha gastado 18€ en la carnicería y 26€ en la pescadería. ¿Cuánto dinero se ha gastado en total?



www.deseducando.com 

Álvaro se ha ido de viaje a Málaga y ha llegado a las 11:00 de la mañana. Sus primos van a llegar dentro de 2 horas y media. ¿A qué hora van a llegar los primos de Álvaro a Málaga?



www.deseducando.com 

Irene tiene 24 canicas, Juan 16, María 30 y Felipe 23. ¿Quién tiene más canicas? ¿Quién tiene menos canicas? ¿Puedes ordenarlos de menor a mayor?



www.deseducando.com 

Dibuja una casa en un papel o en la libreta. ¿Qué figuras planas geométricas ves en el dibujo?



www.deseducando.com 

Julia está coleccionando un álbum de cromos. Tiene 60 cromos, y su primo le ha regalado 30 cromos que tenía repetidos. ¿Cuántos cromos tiene ahora Julia?



www.deseducando.com 

Amalia se ha ido al campo y cogió 6 gusanos por la mañana y los puso en una caja. Por la tarde se escaparon 3. ¿Cuántos gusanos le quedan a Amalia en la caja?



www.deseducando.com 

En una fiesta hay 29 globos. Se han pinchado 17 globos. ¿Cuántos globos quedan sin pinchar?



www.deseducando.com 

Fran ha hecho collares de macarrones con 32 macarrones verdes, 26 amarillos y 15 naranjas. ¿Cuántos macarrones ha usado en total?



www.deseducando.com 

En un campamento tenían 78 latas de Coca-Cola. Si el primer día se tomaron 55 latas, ¿cuántas quedan para el día de después?



www.deseducando.com 


En el parking había 19 coches aparcados. Ahora han aparcado 8 coches más. ¿Cuántos coches hay aparcados en el parking?



www.deseducando.com



En el semáforo están parados 3 coches, 2 motos y 1 bicicleta. ¿Cuántos vehículos hay parados en total?



www.deseducando.com



Una gallina ha puesto 7 huevos. 5 huevos se han abierto y han nacido pollitos. ¿Cuántos huevos quedan por abrirse?



www.deseducando.com



En un bote hay 28 galletas. Isabel se ha comido 13 galletas. ¿Cuántas galletas quedan en el bote?



www.deseducando.com



En el jardín de un hospital hay 21 geranios, 45 margaritas y 9 claveles. ¿Cuántas plantas hay en el jardín?



www.deseducando.com



En una granja hay 5 gallinas, 2 caballos y 4 ovejas. ¿Cuántos animales hay en total?



www.deseducando.com



En una furgoneta caben 37 cajas de refrescos y en un coche caben 14 cajas de refrescos. ¿Cuántas cajas caben más en la furgoneta que en el coche?



www.deseducando.com



Andrea tiene 54 años y Miguel tiene 33. ¿Cuántos años más tienes Andrea que Miguel?



www.deseducando.com



Elena tiene 16€ en la hucha. Quiere comprarse un juguete que cuesta 28€. ¿Cuánto dinero le falta?



www.deseducando.com 

Mi amigo ha vendido 58 papeletas. Yo he vendido 31. ¿Cuántas papeletas más tengo que vender para igualar a mi amigo?



www.deseducando.com 

Un libro de aventuras cuesta 17€ y el de animales cuesta 11€. ¿Cuántos euros menos cuesta el libro de animales?



www.deseducando.com 

Fernando ha ido a la playa con su primo. Fernando a cogido 23 conchas y su primo 17. ¿Cuántas conchas más ha cogido Fernando que su primo?



www.deseducando.com 

Una familia ha ido de viaje. Han viajado durante 65 kilómetros y han parado. Después han viajado 47 kilómetros más hasta llegar a donde querían. ¿Cuántos kilómetros han recorrido durante el viaje?



www.deseducando.com 

Dibuja un objeto con forma de esfera a la izquierda y un objeto con forma de cubo a la derecha.



www.deseducando.com 

Un campesino ha recogido en su cesta 5 manzanas y 7 naranjas. ¿Cuántas frutas hay en la cesta?



www.deseducando.com 

En camping hay 3 gatos 10 perros. ¿Cuántos animales hay en total?



www.deseducando.com 

### CON DIBUJOS.

Tengo 12 rotuladores y los voy a repartir entre mis dos amigos.  
¿Cuántos rotuladores le voy a dar a cada amigo?

www.deseducando.com



### CON DIBUJOS.

Jorge ha marcado 4 goles en el partido de fútbol. Gloria ha marcado el doble de goles. ¿Cuántos goles ha marcado Gloria?

www.deseducando.com



### CON DIBUJOS.

Mi abuelo ha traído 12 bombones, y los quiere repartir entre los tres nietos. ¿Cuántos bombones nos dará a cada uno?

www.deseducando.com



### CON DIBUJOS.

Mi hermano se ha comido 5 fresas. Mi abuelo se ha comido del triple de fresas que mi hermano. ¿Cuántas fresas se ha comido mi abuelo?

www.deseducando.com



### CON DIBUJOS

En la terraza había 8 plantas. Ayer una tormenta destruyó la mitad de las plantas  
¿Cuántas plantas en buen estado quedan?

www.deseducando.com



### CON DIBUJOS.

Mario tiene 12 cromos. Le da 6 cromos a Isabel y 3 a Rafa. ¿Cuántos cromos le quedan a Mario?

www.deseducando.com



### CON DIBUJOS.

Dibuja un tren con: un rectángulo, dos círculos y dos triángulos.

www.deseducando.com



### CON DIBUJOS.

He comprado 16 caramelos y 4 bolsas de plástico. Quiero poner en cada bolsa la misma cantidad de caramelos.  
¿Cuántos caramelos pondré en cada bolsa para que sean iguales?

www.deseducando.com





**Letra imprenta**

Marina tenía 17 vacas en el prado. Ayer vendió 5. ¿Cuántas vacas le quedan aún por el prado?



www.deseducando.com 

Jesús tiene 8 años y Tomás tiene 9 años. ¿Cuántos años tienen entre los dos?



www.deseducando.com 

Rocío tiene una cesta con 11 manzanas y otra cesta con 8 naranjas. ¿Cuántas frutas tiene en total?



www.deseducando.com 

Jesús tiene 34 cartas y Gloria tiene 25. ¿Cuántas cartas tienen entre los dos?



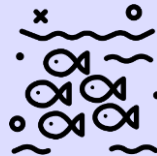
www.deseducando.com 

Lucas tenía 83 caramelos en un bote. Ayer por la tarde repartió 41. ¿Cuántos caramelos le quedan en el bote?



www.deseducando.com 

Carla pescó el sábado 24 peces. El domingo pescó 45. ¿Cuántos peces pescó en total los dos días?



www.deseducando.com 

Rocío tiene una cesta con 63 peras y manzanas. Si de las 63 piezas de fruta, 24 son manzanas. ¿Cuántas son peras?



www.deseducando.com 

En el cumpleaños de María había 26 globos. Si se explotaron 21, ¿Cuántos globos quedaron sin explotar?



www.deseducando.com 

Mario tiene 11 lápices en el estuche. Si mete 7 lápices más dentro. ¿Cuántos lápices hay en el estuche?



Laura ha marcado 12 goles y Gloria ha marcado 7 goles. ¿Cuántos goles han marcado entre las dos?



En una floristería había 38 flores. Si se venden 25, ¿Cuántas flores quedan sin vender?



En un cumpleaños hay 17 sillas para los invitados. Si hay 5 sillas libres, ¿cuántos niños hay en la fiesta?



En un equipo de ping-pong tienen 24 pelotas para entrenar. Si 14 son blancas, ¿cuántas pelotas hay de color naranja?



Cristina colecciona cómics. En su estantería tenía 24. Sus padres le han comprado 16 cómics nuevos. ¿Cuántos cómics tiene ahora Cristina?



Jaime fue a comprar dos barras de pan con los 5€ que le dio su madre. Si ha vuelto con 3€, ¿cuánto le han costado las barras de pan?



Pablo ha ido a hacer la compra, y se ha gastado 18€ en la carnicería y 26€ en la pescadería. ¿Cuánto dinero se ha gastado en total?



Álvaro se ha ido de viaje a Málaga y ha llegado a las 11:00 de la mañana. Sus primos van a llegar dentro de 2 horas y media. ¿A qué hora van a llegar los primos de Álvaro a Málaga?



www.deseducando.com



Irene tiene 24 canicas, Juan 16, María 30 y Felipe 23. ¿Quién tiene más canicas? ¿Quién tiene menos canicas? ¿Puedes ordenarlos de menor a mayor?



www.deseducando.com



Dibuja una casa en un papel o en la libreta. ¿Qué figuras planas geométricas ves en el dibujo?



www.deseducando.com



Julia está coleccionando un álbum de cromos. Tiene 60 cromos, y su primo le ha regalado 30 cromos que tenía repetidos. ¿Cuántos cromos tiene ahora Julia?



www.deseducando.com



Amalia se ha ido al campo y cogió 6 gusanos por la mañana y los puso en una caja. Por la tarde se escaparon 3. ¿Cuántos gusanos le quedan a Amalia en la caja?



www.deseducando.com



En una fiesta hay 29 globos. Se han pinchado 17 globos. ¿Cuántos globos quedan sin pinchar?



www.deseducando.com



Fran ha hecho collares de macarrones con 32 macarrones verdes, 26 amarillos y 15 naranjas. ¿Cuántos macarrones ha usado en total?



www.deseducando.com



En un campamento tenían 78 latas de Coca-Cola. Si el primer día se tomaron 55 latas, ¿cuántas quedan para el día de después?



www.deseducando.com




En el parking había 19 coches aparcados. Ahora han aparcado 8 coches más. ¿Cuántos coches hay aparcados en el parking?



www.deseducando.com



En el semáforo están parados 3 coches, 2 motos y 1 bicicleta. ¿Cuántos vehículos hay parados en total?



www.deseducando.com



Una gallina ha puesto 7 huevos. 5 huevos se han abierto y han nacido pollitos. ¿Cuántos huevos quedan por abrirse?



www.deseducando.com



En un bote hay 28 galletas. Isabel se ha comido 13 galletas. ¿Cuántas galletas quedan en el bote?



www.deseducando.com



En el jardín de un hospital hay 21 geranios, 45 margaritas y 9 claveles. ¿Cuántas plantas hay en el jardín?



www.deseducando.com



En una granja hay 5 gallinas, 2 caballos y 4 ovejas. ¿Cuántos animales hay en total?



www.deseducando.com



En una furgoneta caben 37 cajas de refrescos y en un coche caben 14 cajas de refrescos. ¿Cuántas cajas caben más en la furgoneta que en el coche?



www.deseducando.com



Andrea tiene 54 años y Miguel tiene 33. ¿Cuántos años más tienes Andrea que Miguel?



www.deseducando.com



Elena tiene 16€ en la hucha. Quiere comprarse un juguete que cuesta 28€. ¿Cuánto dinero le falta?



www.deseducando.com 

Mi amigo ha vendido 58 papeletas. Yo he vendido 31. ¿Cuántas papeletas más tengo que vender para igualar a mi amigo?



www.deseducando.com 


Un libro de aventuras cuesta 17€ y el de animales cuesta 11€. ¿Cuántos euros menos cuesta el libro de animales?



www.deseducando.com 

Fernando ha ido a la playa con su primo. Fernando ha cogido 23 conchas y su primo 17. ¿Cuántas conchas más ha cogido Fernando que su primo?



www.deseducando.com 

Una familia ha ido de viaje. Han viajado durante 65 kilómetros y han parado. Después han viajado 47 kilómetros más hasta llegar a donde querían. ¿Cuántos kilómetros han recorrido durante el viaje?



www.deseducando.com 

Dibuja un objeto con forma de esfera a la izquierda y un objeto con forma de cubo a la derecha.



www.deseducando.com 

Un campesino ha recogido en su cesta 5 manzanas y 7 naranjas. ¿Cuántas frutas hay en la cesta?



www.deseducando.com 

En camping hay 3 gatos 10 perros. ¿Cuántos animales hay en total?



www.deseducando.com 

### CON DIBUJOS.

Tengo 12 rotuladores y los voy a repartir entre mis dos amigos.

¿Cuántos rotuladores le voy a dar a cada amigo?

www.deseducando.com



### CON DIBUJOS.

Jorge ha marcado 4 goles en el partido de fútbol. Gloria ha marcado el doble de goles. ¿Cuántos goles ha marcado Gloria?

www.deseducando.com



### CON DIBUJOS.

Mi abuelo ha traído 12 bombones, y los quiere repartir entre los tres nietos. ¿Cuántos bombones nos dará a cada uno?

www.deseducando.com



### CON DIBUJOS.

Mi hermano se ha comido 5 fresas. Mi abuelo se ha comido del triple de fresas que mi hermano. ¿Cuántas fresas se ha comido mi abuelo?

www.deseducando.com



### CON DIBUJOS

En la terraza había 8 plantas. Ayer una tormenta destruyó la mitad de las plantas. ¿Cuántas plantas en buen estado quedan?

www.deseducando.com



### CON DIBUJOS.

Mario tiene 12 cromos. Le da 6 cromos a Isabel y 3 a Rafa. ¿Cuántos cromos le quedan a Mario?

www.deseducando.com



### CON DIBUJOS.

Dibuja un tren con: un rectángulo, dos círculos y dos triángulos.

www.deseducando.com



### CON DIBUJOS.

He comprado 16 caramelos y 4 bolsas de plástico. Quiero poner en cada bolsa la misma cantidad de caramelos. ¿Cuántos caramelos pondré en cada bolsa para que sean iguales?

www.deseducando.com



iconixar



Freepik



eucalyp




Good Ware




DisnosoftLabs



Nhor Phai



dDara



mavadee

